

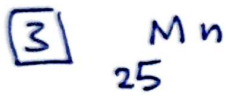
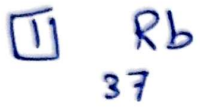


☆ الجدول الدوري الحديث - الوحدة الثانية

ورقة عمل

أنا حدد رقم المجموعة ورقم الدورة لكل من العناصر
الآتيه :-



س٢ / اكتب التركيب الإلكتروني لعنصر يقع في الدورة السادسة
والمجموعة (IIIA) ، ثم حدد العدد الذري له وبعدها
ارجع للجدول الدوري وحدد من هو العنصر ؟؟

س٣ / اكتب التركيب الإلكتروني لعنصر يقع في
الدورة الخامسة والمجموعة (5B) ثم
حدد العدد الذري له وحدد للجدول الدوري وحدد
من هو العنصر ؟؟